

5. Иван Калита впервые добился в Орде права собирать дань с русских земель самостоятельно, без баскаков.

6. Церковь Покрова Богородицы на Нерли был построен в память одного из сыновей Андрея Боголюбского.

7. Полюдье - это летняя экспедиция князя по сбору дани.

8. Борис и Глеб были убиты в междоусобной борьбе старшим братом Святополком.

9. Главным событием правления Василия II стало свержение монгольского ига.

10. В середине 1340-х гг. страшная беда надвинулась на Русь – чума, «черная смерть».

Ответ:

№	ВЕРНО	НЕВЕРНО
1.2.	3 4 5 6 8	1 2 7 9 10

Задание 2. Определите и запишите принцип образования каждого логического ряда, найдите и выпишите лишний элемент в каждом ряду. Объясните, почему данный элемент является лишним *Максимальный балл за задание – 3 балла (0,5 балла за лишнее понятие и 0,5 балла за объяснение)*

2.1. Вятчи, поляне, кривичи, балты, радимичи

2.2. Дажьбог, Стрибог, Водан, Перун, Ярило

2.3. Гончарный круг, плуг, каменный топор, ткацкий станок

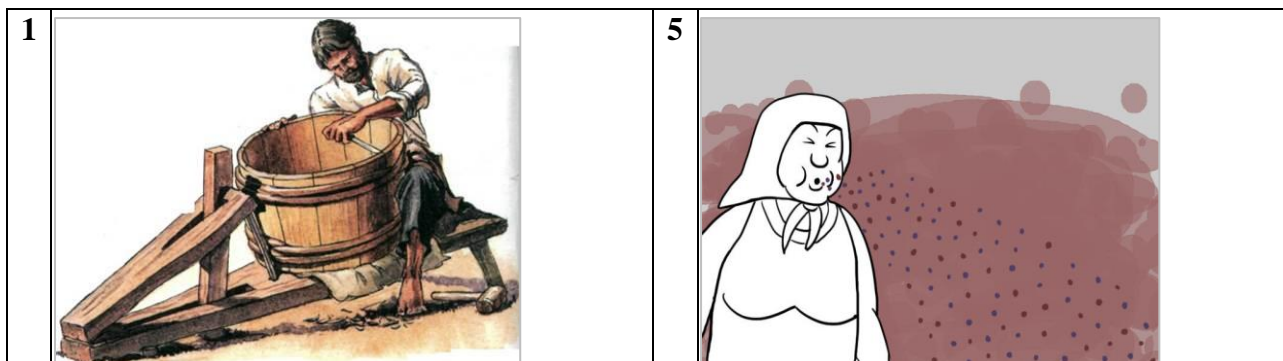
Ответ:

2.1. Балты/ восточнославянскими племенами.

2.2. Водан/ скандинавское божество, а не славянское

2.3. Ткацкий станок относится к присваивающему типу хозяйства, а остальное к производящему

Задание 3. Рассмотрите изображенные на рисунках старинные профессии Древней Руси. Запишите под каждым номером название профессии и дайте её определение (объясните, чем занимался представитель данной профессии). *Максимальный балл за задание – 16 баллов. За каждый правильный ответ – 1 балл.*



2		6	
3		7	
4		8	

Ответ:

№	Профессия	Определение
1	Бондарь	изготовитель бочек
2	Дегтекур	гнал из бересты дёготь
3	Кожемяка	кожевник
4	Мытарь	сборщик налогов
5	Плевальщик	Занимался посевом очень маленьких семян репы
6	Ключник	человек, ведавший продовольствием, чаще всего слуга в барском доме
7	Коробейник	торговец предметами крестьянского быта в розницу на ярмарках
8	Толмач	переводчик устной речи

Задание 4. Текст с пропусками. Заполните пробелы в тексте. Ответ оформите в виде перечня элементов под соответствующими номерами. Максимальный балл за задание – 15 баллов. За каждый правильный ответ – 1 балл.

В лето 6576 _ (1 - год от Рождества Христова). Пришли иноплеменники на Русскую землю _ (2 - название этноса/народа) многие. Князь великий киевский _ (3 - имя) же и братья его и _ (4 - имя) и младший _ (5 - имя) вышли против них на реку _ (6 - название). И с наступлением ночи они пошли друг на друга. За грехи наши напустил Бог на нас поганых, и бежали русские князья... Когда князь киевский с сыном бежали в _ (7 - город), а брат в _ (8 - город), люди, участвовавшие в походе, прибежали в город и собрали _ (9 - термин власти) на торгу, и послав к князю, сказали ему: "Вот, поганые рассыпались по всей земле, дай нам, князь, _ (10 - вид снаряжения) и коней, мы ещё побьемся с ними". Князь же этого не послушал. И люди пошли в гору и остановились около двора Брячислава и сказали: "Пойдем освободим дружину свою из _ (11 - место заключения)". И люди закричали, и освободили дружину и сына князя полоцкого _ (12 - имя). Двор же княжеский разграбили, [захватив] бесчисленное множество золота и серебра... Князь же киевский бежал в _ (13 - государство) ... В лето 6577 _ (14 - год от Рождества Христова). Пошел князь киевский со своим родственником, князем _ (15 - имя) вернуть свой стол...

Ответ:

1. 1068
2. Половцы
3. Изяслав
4. Святослав
5. Всеволод
6. Альту
7. Киев
8. Чернигов
9. Вече
10. Оружие
11. Темницы
12. Всеслава
13. Польшу
14. 1069
15. Болеславом

Задание 5. Установите соответствие между деятелями отечественной и всемирной истории и событием, участниками или свидетелями которого они были. Максимальный балл за задание – 5 баллов. За каждый правильный ответ – 1 балл.

Российская история	Всемирная история
1. Рюрик	А. Нормандское завоевание Англии
2. Ольга	Б. Разделение христианской церкви на Восточную (православную) и Западную (католическую)
3. Ярослав Мудрый	В. Первый крестовый поход
4. Изяслав Ярославич	Г. Распад империи франков
5. Святополк	Д. Образование Священной Римской империи

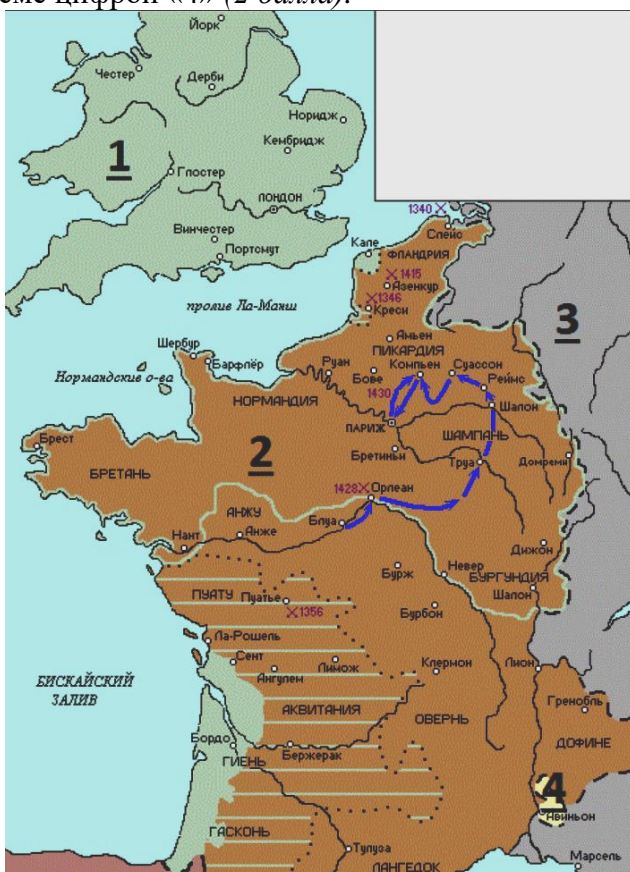
Ответ:

1	2	3	4	5
Г	Д	Б	А	В

Задание 6. Внимательно рассмотрите карту и выполните предложенные задания.

Максимальный балл за задание – 12 баллов.

- 6.1. Назовите государство, территория которого обозначена на схеме цифрой «1» (2 балла).
- 6.2. Укажите название войны, события которой отображены на территории государства, обозначенного на схеме цифрой «2». Укажите годы этой войны (4 балла).
- 6.3. Назовите государство, территория которого обозначена на схеме цифрой «3» (2 балла).
- 6.4. Назовите национальную героиню государства, обозначенного на схеме цифрой «2», деятельность которой связана с событиями, обозначенными на карте (2 балла).
- 6.5. Укажите, какой известный процесс происходил в тот же период, когда происходила война, событиям которой посвящена схема, в течение 69 лет на территории области, обозначенной на схеме цифрой «4» (2 балла).



Ответ:

- 6.1. Англия (2 балла).
- 6.2. Столетняя война, 1337–1453 гг. (4 балла за полностью верный ответ, 2 балла за ответ без указания периода войны).
- 6.3. Священная Римская империя (2 балла).
- 6.4. Жанна д'Арк (2 балла).

6.5. Авиньонское пленение пап (2 балла). Максимум за задание – 12 баллов.

Задание 7. Рассмотрите схемы представленные ниже принадлежащие к одной исторической эпохе и ответьте на вопросы. Максимальный балл за задание – 12 баллов.

1.

2.

3.

7.1. Определите исторические события, показанные на каждой из представленных схем 1-3 (3 балла).

7.2. Напишите дату каждого из них (3 балла).

7.3. Назовите государство, с войсками которого сражались русские воины в указанных битвах (1 балл).

7.4. Укажите не менее трех участников с русской стороны события, обозначенного на схеме под № 1 (3 балла)

7.5. Перечислите не менее двух литературных произведений, посвященных историческому событию, отраженному на схеме под № 1 (2 балла)

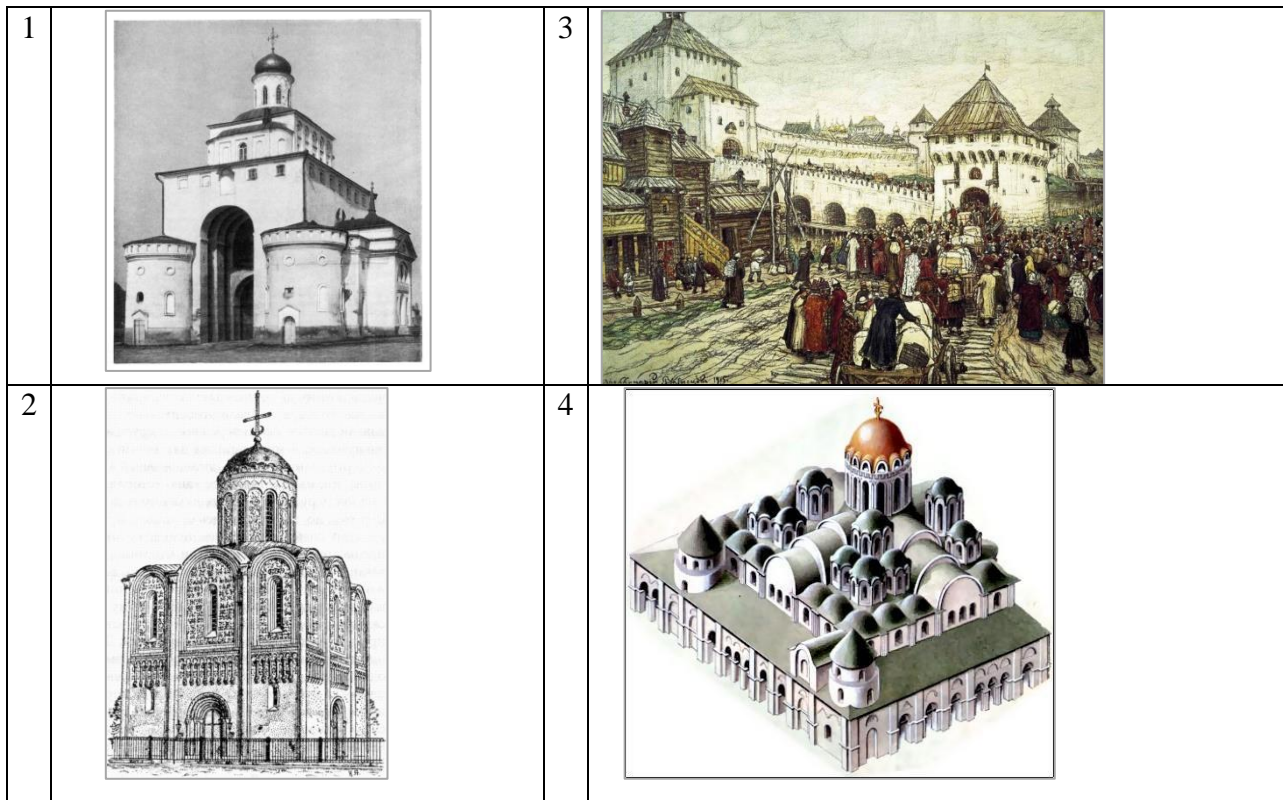
Ответ:

№	1 схема	2 схема	3 схема
7.1.	Куликовская битва / «Мамаево побоище» (1балл)	Битва на р. Пьяне (1 балл)	Битва на р. Воже (1 балл)
7.2.	1380 г. (1 балл)	1377 г. (1 балл)	1378 г. (1 балл)
7.3.	Золотая Орда (Улус Джучи) (1 балл)		
7.4.	Дмитрий Иванович Донской, Пересвет, Ослябя, Владимир Андреевич Серпуховской, Дмитрий Михайлович Боброк-Волынский, Андрей Ольгердович (максимум – до 3 баллов, по 1 баллу за любого участника с русской» стороны).		
7.5.	«Задонщина» (1 балл), «Сказание о Мамаевом побоище» (1 балл)		

Задание 8. Посмотрите на архитектурные сооружения и укажите: 1) название архитектурных сооружений (1 балл); 2) время их создания (с точностью до половины столетия) (1 балл); 3) имя князя, при котором они были построены (1 балл); 4) место их расположения (1 балл). *Максимальный балл за задание – 16 баллов. За каждый правильный ответ – 1 балл.*

Ответ:

№	Название (1 балла за каждый верный ответ)	Время создания (до половины века) (1 балла за каждый верный ответ)	Имя князя (1 балла за каждый верный ответ)	Место расположения (1 балла за каждый верный ответ)
1	Золотые ворота	2 половина XII в.	Андрей Боголюбский	Владимир
2	Дмитриевский собор	2 половина XII в.	Всеволод Большое Гнездо	Владимир
3	Белокаменный Кремль	2 половина XIV в.	Дмитрий Иванович Донской	Москва
4	Софийский собор	1 половина XI в.	Ярослав Мудрый	Киев



Задание 9. Используя все приведенные слова и словосочетания, составьте определения исторических понятий. Назовите эти понятия. Слова и словосочетания не могут использоваться дважды. Вы можете добавлять предлоги, изменять слова по падежам и пр. *Максимальный балл за задание – 3 балла. За каждый правильный ответ – 1 балл (в 9.1-9.2. определение+понятие).*

9.1. Глава, управление, Древний, выборный, в, городской, Новгород.

9.2. Высокий, хан, в, ордынский, покоренные, ранг, земли, представитель, чиновник.

9.3. Напишите имя одного из исторических деятелей европейской истории – современника Государя всея Руси Ивана III (1 балл)

Ответ:

9.1. Посадник - выборный глава городского управления в Древнем Новгороде. (1 балл)

9.2. Баскак - ордынский чиновник высокого ранга, представитель хана в покоренных землях. (1 балл)

9.3. В Англии - Ричард III Йорк, Генрих VII Тюдор, Испании - супруги королева Изабелла Кастильская и Фердинанд Арагонский, во Франции - короли Людовик XI Благоразумный, Карл VIII, Людовик XII, в Италии - семейство Медичи, Папа Римский Александр Борджиа, в Германии - Фридрих III Габсбург (император Священной Римской империи), Васко да Гама, Христофор Колумб, Джон Кабот, Казимир IV в Польше, Рафаэль Санти, Влад III Цепеш, турецкие султаны Мехмет II и Баязид II. Указание страны не обязательно. (1 балл)

Задание 10. Посмотрите на изображения и заполните таблицу. Максимальный балл за задание – 8 баллов. За каждый правильный ответ – 1 балл.


1

2

	1 изображение	2 изображение
Кому посвящен памятник?	Михаил Александрович Врубель (1 балл)	Фёдор Михайлович Достоевский (1 балл)
Чем знаменит этот человек?	Русский художник рубежа XIX – XX веков, работавший практически во всех видах и жанрах изобразительного искусства: живописи, графике, декоративной скульптуре и театральном искусстве. (1 балл)	великий писатель, классик русской литературы, мыслитель, философ. Автор произведений: «Идиот», «Преступление и наказание» и др. (1 балл)
Как он связан с историей города Омска?	Художник родился в Омске. (1 балл)	Несколько лет пребывал в Омском остроге, будучи каторжником, осуждённым за участие в кружке Петрашевского. (1 балл)
Какие объекты в городе Омске названы именем этого человека?	Омский музей изобразительных искусств им. Врубеля (1 балл)	Улица Достоевского в ЦАО Литературный музей им. Ф. М. Достоевского. Памятники Достоевскому. Библиотека им. Ф. М. Достоевского в ОАО. Омский государственный университет.(1 балл)

В данном задании участниками могут быть использованы иные формулировки в ответах, не противоречащие фактам.